



NIZINSKI



ZAVIČAJ



U NIZINSKOM ZAVIČAJU PREVLADAVAJU NIZINE.



NIZINE NA KARTI OZNAČAVAMO ZELENOM BOJOM.



KROZ NIZINSKI ZAVIČAJ TEKU MNOGE RIJEKE:

DUNAV, SAVA, DRAVA, KUPA I DRUGE.




ZIME SU HLADNE I IMA SNIJEGA.



LJETA SU TOPLA.

OPIŠI SLIKU.



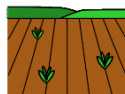
SELA IMAJU ŠIROKE ULICE.



KUĆE SU IZGRADENE UZ GLAVNU PROMETNICU.



KUĆE IMAJU VELIKA DVORIŠTA.



IZA KUĆA SE NALAZE POLJA.



NAJVEĆI GRADOVI NIZINSKOGA ZAVIČAJA



NALAZE SE UZ RIJEKE.



U GRADOVIMA ŽIVI PUNO LJUDI.



NEKI GRADOVI NIZINSKOGA ZAVIČAJA SU:

ZAGREB



KARLOVAC



VARAŽDIN



VUKOVAR



GOSPODARSTVO NIZINSKOGA ZAVIČAJA



LJUDI



NA SELU



UZGAJAJU



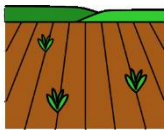
KRAVE,



SVINJE



I PERAD.



NA ORANICAMA



LJUDI



UZGAJAJU



KUKURUZ,



PŠENICU



I SUNCOKRET.



U RIBNJACIMA



LJUDI



UZGAJAJU



RIBU.



OD VOĆA SE UZGAJAJU JABUKE, ŠLJIVE,



KRUŠKE.



U GRADOVIMA LJUDI RADE U TVORNICI,



TRGOVINI, ŠKOLI, BOLNICI...




U NIZINSKOM ZAVIČAJU PREVLADAVAJU



NIZINE NA


OZNAČAVAMO




I IMA



ZIME SU



SU TOPLA.



	ZAVICAJ
	NIZINA
	RUEKA
	ZIMA
	HLADNO
	SNJEG
	LJETO
	TOPLO



	zavičaj
	nizina
	rijeka
	zima
	hladno
	snijeg
	ljetno
	toplo



U



ZAVIČAJU IMA PUNO



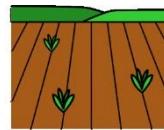
ILI



ŠTO SE



NA



?



ŠTO SE



U



?

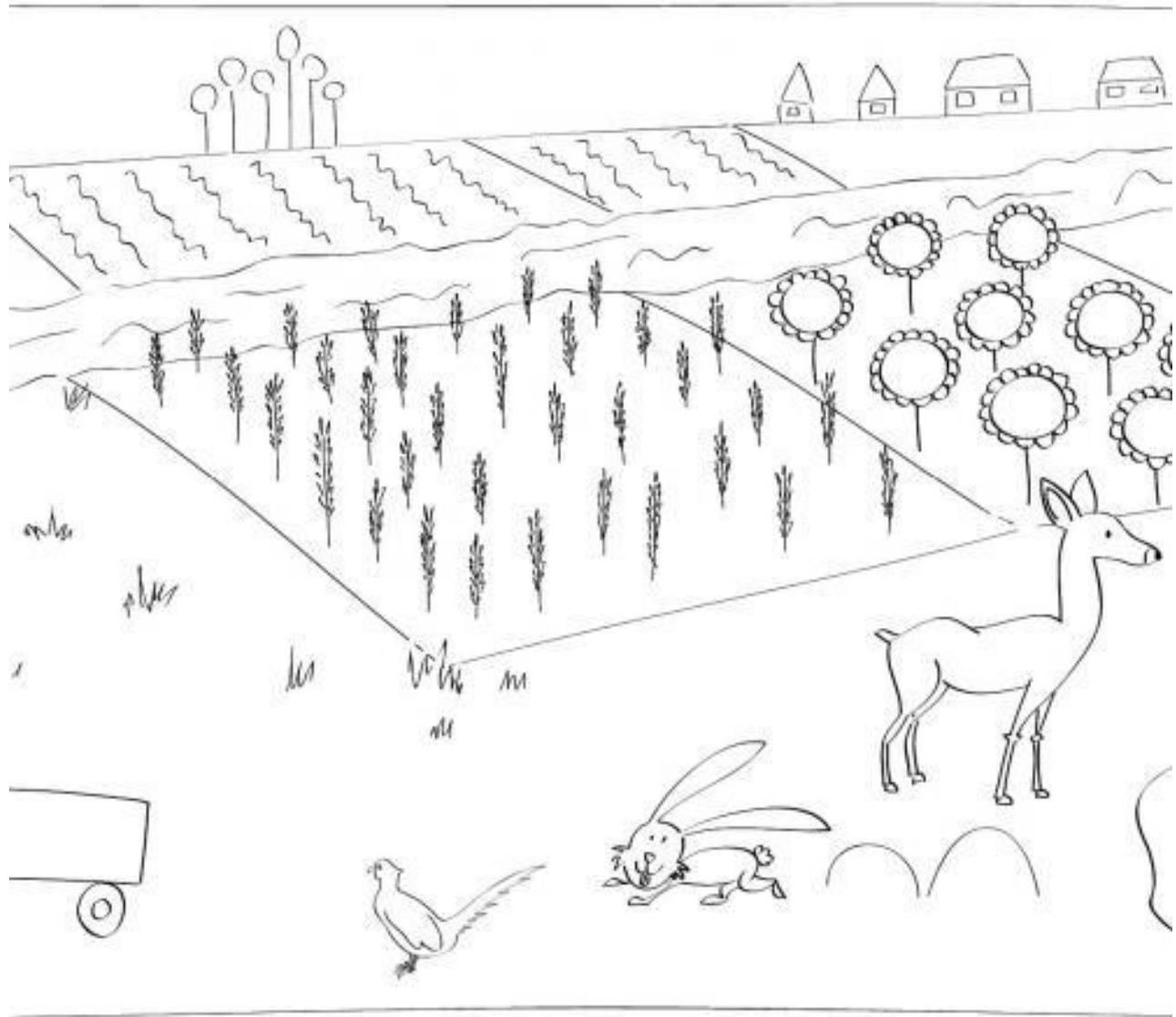


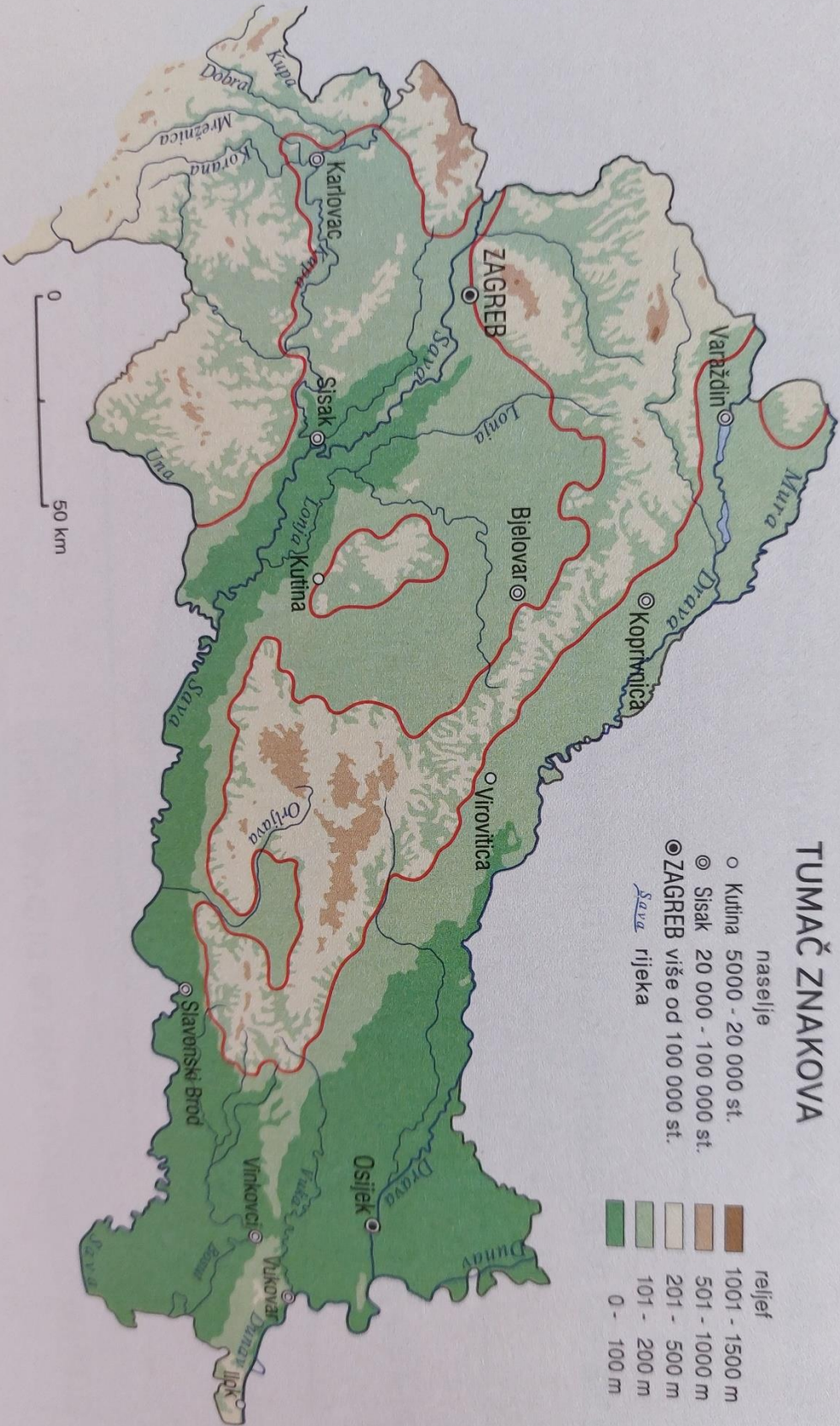
ILI











NA KARTI NIZINSKOGA ZAVIČAJA:

1. **LJUBIČASTOM** BOJOM ZAOKRUŽI NAZIV GLAVNOG HRVATSKOG GRADA
2. **CRVENOM** BOJOM ZAOKRUŽI NAZIV GRADA U KOJEM JE TVOJA ŠKOLA
3. **NARANČASTOM** BOJOM ZAOKRUŽI NAZIVE RIJEKA KOJE TEKU KROZ KARLOVAC
4. NA KARTI PRONAĐI GRAD VUKOVAR. ZAOKRUŽI GA **SMEĐOM** BOJOM