


DATUM:	39 - 43 = 5
BODOVI / OCJENA:	33 - 38 = 4
	27 - 32 = 3
	22 - 26 = 2
	0 - 21 = 1


# TEST

1. razred (0/4)

IME, PREZIME, RAZRED: \_\_\_\_\_

1.  Ovaj ključ ima dva imena. Koja?

\_\_\_\_\_ ili \_\_\_\_\_ / 2

2. Zašto se  ključ zove po jednoj noti?

\_\_\_\_\_ / 1

3. Kako pravilno sjedimo i držimo harmoniku prilikom sviranja?

\_\_\_\_\_ / 1

4. Mijeh je pravilno razvlačiti u obliku čega?

\_\_\_\_\_ / 1

5.  ← Ovo je znak za: \_\_\_\_\_

\_\_\_\_\_ / 1

6.  ← Ovo je znak za: \_\_\_\_\_

\_\_\_\_\_ / 1

7. Crtovlje ima \_\_\_\_\_ crta i \_\_\_\_\_ praznine.

\_\_\_\_\_ / 2

8. Kako se zovu ove note i koliko traju?



\_\_\_\_\_



\_\_\_\_\_




\_\_\_\_\_

\_\_\_\_\_ / 3

9. Kako se zovu ove pauze i koliko traju?



\_\_\_\_\_



---

---

\_\_/3

10. Prstomet – napiši brojeve na odgovarajuće prste:



\_\_/5

11. Upiši tonove **c<sup>1</sup>**, **d<sup>1</sup>**, **e<sup>1</sup>**, **f<sup>1</sup>** i **g<sup>1</sup>** na točnu tipku na klavijaturi:



\_\_/5

12. Na crte upiši točne nazive dijelova harmonike:



\_\_/4

13. Kako se zove ova mjera: 4/4 i koliko doba se nalazi u jednom njenom taktu?

---

---


\_\_/2

14. Za što služe registri na harmonici?

---

\_\_/1

15. Napiši imena tonova ispod nota, a prstomet iznad nota:



---

---

\_\_/10

16. Kako se dobije ton na harmonici?

---

\_\_/1